

6.SINIF MATEMATİK

ÖRNEK Aşağıdaki ondalık kesirleri örneğe uygun çözümlayiniz.

$$25,203 = 2.10 + 5.1 + 2. \frac{1}{10} + 3. \frac{1}{100}$$

$$4,007 =$$

$$741,052 =$$

$$504,224 =$$

$$28,497 =$$

ÖRNEK Aşağıdaki ondalık kesirleri örneğe uygun çözümlayiniz.

$$407,225 = 4.100 + 7.1 + 2.0,1 + 2.0,01 + 5.0,001$$

$$200,008 =$$

$$0,125 =$$

$$197,503 =$$

$$32,451 =$$

ÖRNEK Aşağıda çözümlenmiş hali verilen ondalık kesirleri yazalım.

$$5.0,01 + 8.0,001 =$$

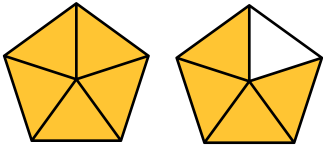
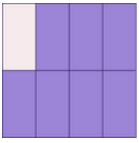
$$9.10 + 8.1 + 5.0,1 + 7.0,01 =$$

$$8.100 + 7.1 + 5. \frac{1}{10} + 8. \frac{1}{1000} =$$

$$7.100 + 8.10 + 9. \frac{1}{100} =$$

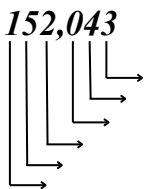
ÖRNEK

Aşağıda kesir şeması ile verilen kesirleri ondalık kesre çevirip , çözümlayelim.



ÖRNEK

Aşağıda verilen ondalık kesrin basamak değerlerini yazalım.



ÖRNEK

$8.10 + 7.1 + 9.0,01 + 7.0,001 = A7,BC7$
A,B ve C sayısı birer rakam olduğuna göre C,BA sayısının çözümlenmiş halini yazalım.

ÖRNEK Aşağıda basamak değerleri karışık verilen ondalık kesri yazalım.

200

0,007

0,3

5

ÖRNEK Aşağıdaki tabloyu uygun şekilde dolduralım.

Ondalık Kesir	Onlar basamağına yuvarlanmış hali	Birler basamağına yuvarlanmış hali	Onda birler basamağına yuvarlanmış hali	Yüzde birler basamağına yuvarlanmış hali
872,163				
586,742				
203,057				
120,608				

ÖRNEK

8,7A

Yukarıdaki sayının onda birler basamağına göre yuvarlanmış hali 8,8 ise A rakamının alacağı değerlerin toplamını bulalım.

ÖRNEK

65,AB

Yukarıdaki sayının birler basamağına yuvarlanmış hali 66 , onda birler basamağında yuvarlanmış hali 65,7 ise A+B toplamının en küçük değeri kaçtır ?

ÖRNEK

Aşağıda çözümlenmiş hali verilen ondalık kesrin yüzde birler basamağına yuvarlanmış halinin bulunuz.


$$4.100 + 7.1 + 2.0,1 + 2.0,01 + 5.0,001$$

ÖRNEK

$3\frac{1}{8}$ kesrini ondalık kesre çevirip

yüzde birler basamağına göre yuvarlayınız.

ÖRNEK



Onda birler basamağına göre yuvarlar.



Yüzde birler basamağına göre yuvarlar.



ÖRNEK

$6,\overline{76}$ sayının onda birler basamağına yuvarlanmış halini bulalım.

işlemleri sonucu ortaya çıkan sayı kaçtır ?

Çözümleri youmattv youtube kanalında bulabilirsiniz.