

Aşağıda verilen doğal sayıların basit kesir kadarını bulalım.

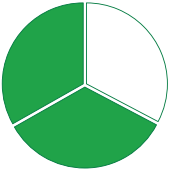
 200 'ün $\frac{3}{4}$ 'ü  800 'ün $\frac{3}{10}$

 120 'ün $\frac{5}{12}$  640 'ün $\frac{5}{32}$


 80 'ün $\frac{2}{5}$  1200 'ün $\frac{7}{40}$

 240 'ün $\frac{5}{6}$  1500 'ün $\frac{8}{15}$

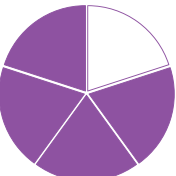
Aşağıdaki doğal sayıların şekil ile gösterilen kesir kadarını bulunuz.



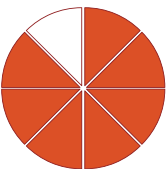
Tamamı 450 olan sayının şekilde gösterilen kısmı.....



Tamamı 160 olan sayının şekilde gösterilen kısmı.....



Tamamı 650 olan sayının şekilde gösterilen kısmı.....



Tamamı 192 olan sayının şekilde gösterilen kısmı.....



Ahmet bey aracıyla 360 km'lik yolun $\frac{3}{4}$ 'nü gidiyor. Buna göre Ahmet bey kaç kilometre yol almıştır?

ÇÖZÜM:




Emre 210 sayfalık kitabın $\frac{2}{3}$ 'sini okumuştur. Geriye kaç sayfa kitabı kalmıştır?

ÇÖZÜM:



Berk elindeki 400 kg elmanın birinci gün $\frac{3}{10}$ 'ünü ikinci gün $\frac{7}{20}$ 'sini satmıştır. Geriye kaç kg elması kalmıştır ?

ÇÖZÜM:




Gülben annesiyle beraber yaptıkları 240 adet bilekliğin $\frac{7}{8}$ 'ini tanesi 10 tl 'den satarsa toplam kaç tl para parası olur ?


ÇÖZÜM.
ÇÖZÜM:





KRAL SORU


Aşağıda kesir kadarı verilen doğal sayıların tamamını bulalım.


 $\frac{3}{4}$ 'ü 150 olan sayının tamamı


 $\frac{1}{4}$ 'i 72 olan sayının tamamı


 $\frac{5}{12}$ 'i 65 olan sayının tamamı

 $\frac{6}{13}$ 'sı 18 olan sayının tamamı

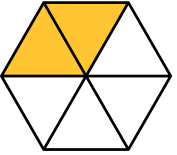
 $\frac{2}{5}$ 'si 80 olan sayının tamamı

 $\frac{7}{9}$ 'si 84 olan sayının tamamı

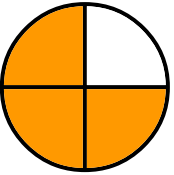
 $\frac{5}{6}$ 'i 90 olan sayının tamamı

 $\frac{3}{7}$ 'ü 42 olan sayının tamamı

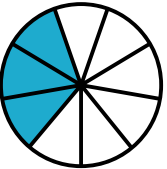
Aşağıdaki şekillerin belirttiği kesir kadarı verilen sayıların tamamını bulunuz.



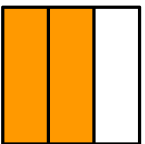
Şekilde gösterilen kesir kadarı 60 olan sayının tamamı.....



Şekilde gösterilen kesir kadarı 120 olan sayının tamamı.....



Şekilde gösterilen kesir kadarı 90 olan sayının tamamı.....



Şekilde gösterilen kesir kadarı 80 olan sayının tamamı.....



Bir duvarın 72 metrekaresini boyayan usta duvarın $\frac{6}{7}$ 'sını boyamış oluyorsa boyayacağı toplam duvar kaç metrekaredir ?

ÇÖZÜM:

Arda öğretmenin verdiği ödevin 30 sayfasını çözdüğünde ödevin $\frac{2}{3}$ 'sini bitirmiş oluyor. Öğretmeni toplam kaç sayfa ödev vermiştir ?

ÇÖZÜM:

Bir dağcı yerden 300 metre yüksekliğe tırmandığında tırmanacağı toplam yüksekliğin $\frac{6}{13}$ 'sına ulaşmış oluyor. Bu dağcının tırmanmayı hedeflediği yükseklik kaç metredir ?

ÇÖZÜM:

Bir bakkal elindeki zeytinyağlarının 42 litresini satarsa tüm zeytinyağlarının $\frac{7}{12}$ satmış oluyor. Bu bakkal tüm zeytinyağlarını sattığında toplamda 1800 tl gelir elde ettiğine göre zeytinyağının litresini kaç tl'ye satmıştır?

**KRAL SORU**