

Adı :  
Soyadı :  
Sınıf :

5. SINIF MATEMATİK  
1. DÖNEM 1. YAZILI

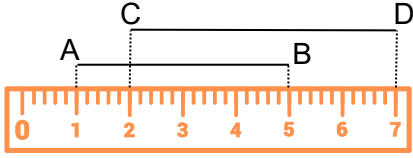


Çözüm  
videosu için  
okutunuz.

1 Aşağıdaki tabloyu örnekteki gibi doldurunuz.

Çizimin okunuşu	Sembolle gösterimi	Çizim
KL ışını	[ KL	
AB doğrusu		
CD doğru parçası		

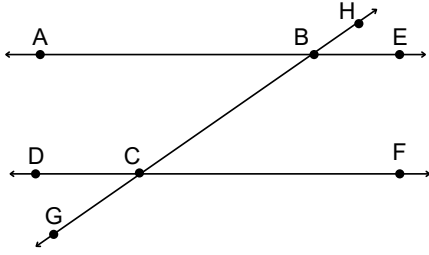
2



Yukarıdaki cetvelde iki doğru parçasının uzunluğu verilmiştir. Buna göre  $|AB| + |CD|$  toplamı kaç santimetredir ?

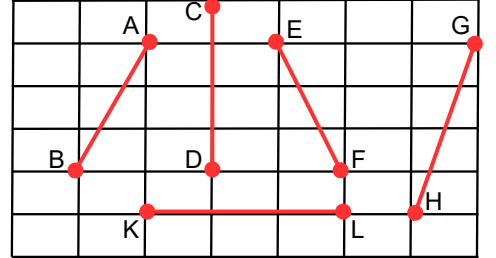
4

Aşağıda iki paralel doğru ve onları kesen doğru verilmiştir.



Buna göre komşu bütünler açığı ve ters açığı birer örnek yazınız. Sembolle gösteriniz.

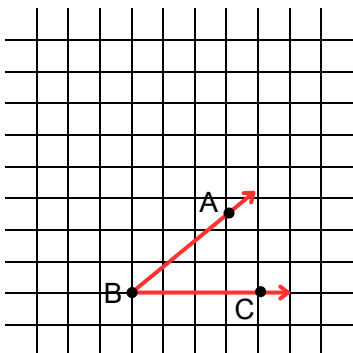
5



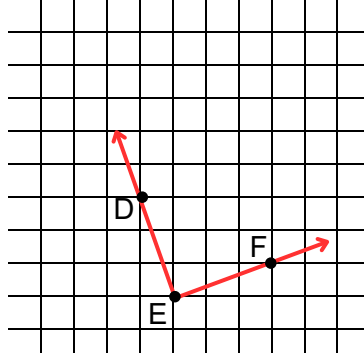
Yukarıda verilen doğru parçalarından hangilerinin uzunluğu birbirine eşittir ? Sembolle ifade ediniz.

6

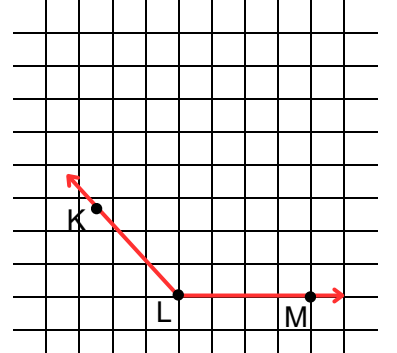
Aşağıda kareli zemin üzerinde verilen açılar çeşitlerini yazınız. (Dar açı, Dik açı, Geniş açı)



Açının ismi :  
Açının Çeşidi :

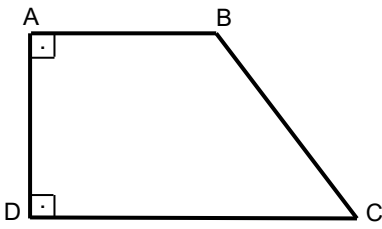


Açının ismi :  
Açının Çeşidi :



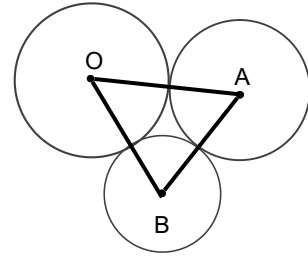
Açının ismi :  
Açının Çeşidi :

7



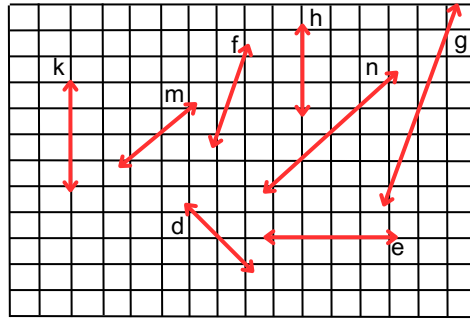
Yukarıda verilen şekilde dikme olan doğru parçalarını sembolle gösteriniz.

8



Yukarıda O,A ve B merkezli çemberlerin çap uzunlukları sırasıyla 14,12 ve 10 cm'dir.  
Çemberler birbirlerine değmektedir.  
Bu çemberlerin merkezlerini köşe kabul eden bir ABC üçgeni çiziliyor.  
**Buna göre ABC üçgeninin çevresini bulunuz.**

9



Yukarıda sekiz farklı doğru verilmiştir. Bu doğruların birbirlerine göre durumlarını ifade ediniz.(  $\perp$  ,// )  
Paralellik ve diklik durumlarını inceleyiniz.

a) k.....e

b) m.....d

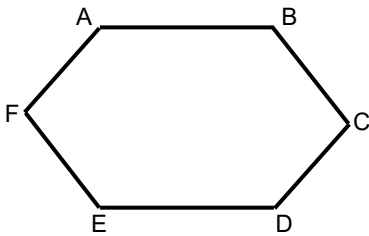
c) n.....m

d) f.....g

e) h.....e

f) k.....h

10



Yanda bir altıgen verilmiştir.

Aşağıdaki tabloya altıgenin ismini , kenarlarını , köşelerini ve iç açılarını semboller kullanarak ifade ediniz.

İsmi	Köşeleri	İç Açıları	Kenarları